



# KONVEKSNOST I PREVOJNE TAČKE

Prof. Emsada Bećirović

**Definicija 1:** Funkciju  $f(x)$  definisanu na intervalu  $(a, b)$  nazivamo **konveksnom ( konkavnom )** na  $(a, b)$  ako se tačka njenog proizvoljnog luka nalazi ispod ( iznad ) odsječka koji spaja krajeve luka.

**Dovoljan uslov konveksnosti ( konkavnosti ) :**

Neka funkcija  $f(x)$  ima izvode prvog i drugog reda na intervalu  $(a, b)$ . Ako je  $f''(x) > 0$  ( $f''(x) < 0$ ) za  $x \in (a, b)$  tada je  $f(x)$  konveksna ( konkavna ) na intervalu  $(a, b)$ .

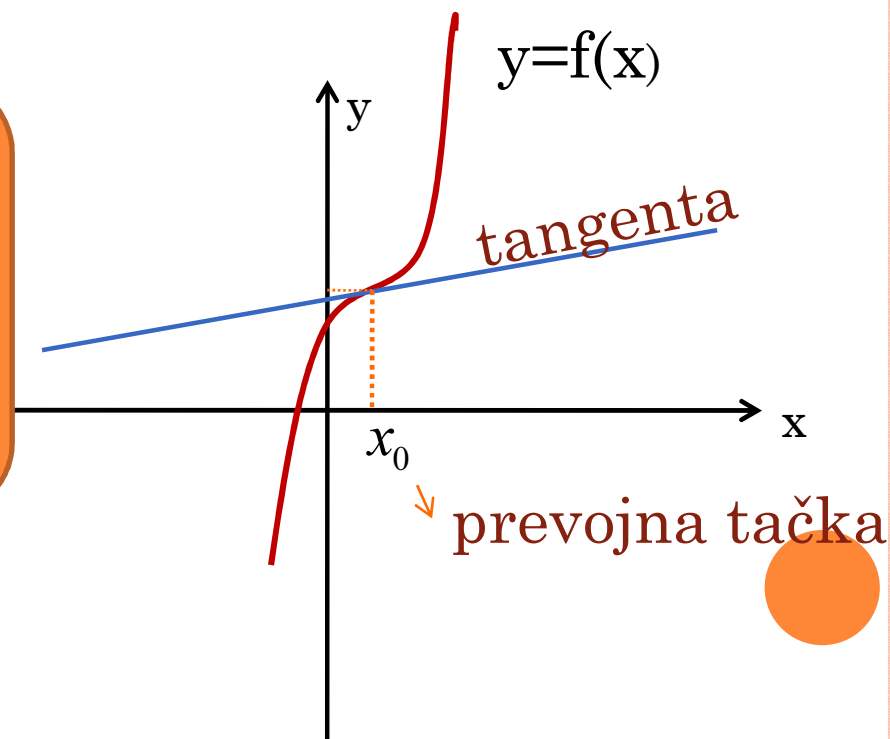


## Neophodan uslov postojanja prevojne tačke :

Ako je  $x_0$  **tačka prevoja** grafika funkcije  $f(x)$ , tada je drugi izvod u toj tački jednak nuli ( $f''(x_0) = 0$ ) ili ne postoji.

Tačke u kojima je ( $f''(x_0) = 0$ ) nazivamo **kritičnim tačkama** druge vrste.

Tačka koja razdvaja konveksni dio neprekidne krive od konkavnog dijela nazivamo prevojna tačka.



**PRIMJER 1. ODREDITI INTERVALE KONVEKSNOSTI (KONKAVNOSTI) GRAFIKA FUNKCIJE  $f(x) = x^3 - 3x^2 + 5x - 1$  .**

$$f'(x) = 3x^2 - 6x + 5$$

$$f''(x) = 6x - 6$$

$$f''(x) = 0 \Leftrightarrow 6x - 6 = 0 \Leftrightarrow 6x = 6 \Leftrightarrow x = 1$$

$$f''(x) > 0 \text{ za } x > 1$$

$$f''(x) < 0 \text{ za } x < 1$$

*Data funkcija je konveksna za  $6x - 6 > 0$ ,*

*tj. na intervalu  $(1, +\infty)$ ,*

*a konkavna za  $6x - 6 < 0$ , tj. na intervalu  $(-\infty, 1)$*



**Primjer 2.** Ispitati konveksnost, konkavnost i odrediti prevojne tačke grafika sledećih funkcija:

a)  $f(x) = x^5 + 5x + 5$

b)  $f(x) = (x - 2)^4$

c)  $f(x) = \frac{x}{1 + x^2}$

b)  $f(x) = (x - 2)^4$

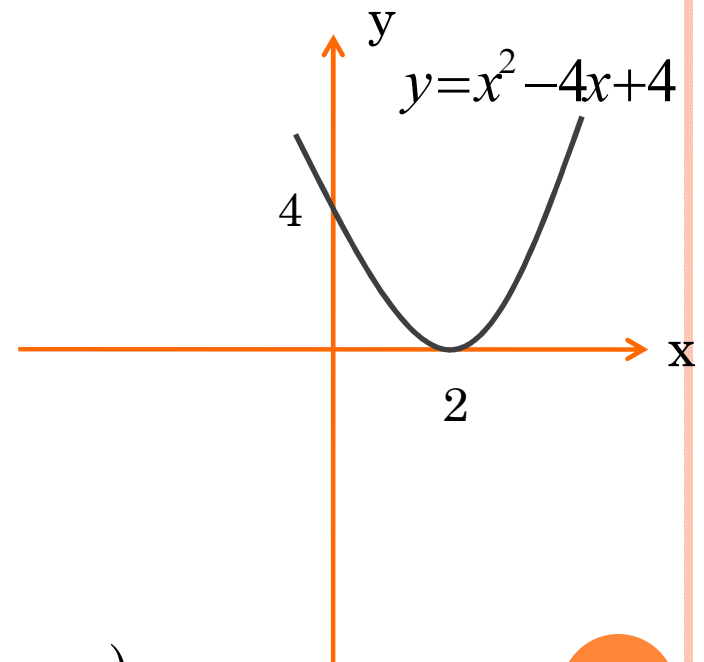
$$f'(x) = 4(x - 2)^3 \cdot (x - 2)' = 4(x - 2)^3$$

$$f''(x) = 12(x - 2)^2 \cdot (x - 2)' = 12(x - 2)^2$$

$$f''(x) = 12(x^2 - 4x + 4)$$

$$f''(x) > 0$$

*Data funkcija je konveksna na intervalu  $(-\infty, +\infty)$*



$$c) f(x) = \frac{x}{1+x^2}$$

$$f'(x) = \left( \frac{x}{1+x^2} \right)' = \frac{x' \cdot (1+x^2) - x \cdot (1+x^2)'}{(1+x^2)^2} = \frac{1+x^2 - x \cdot 2x}{(1+x^2)^2} =$$

$$= \frac{1+x^2 - 2x^2}{(1+x^2)^2} = \frac{1-x^2}{(1+x^2)^2}$$

$$f''(x) = \left( \frac{1-x^2}{(1+x^2)^2} \right)' = \frac{(1-x^2)' \cdot (1+x^2)^2 - (1-x^2) \cdot [(1+x^2)^2]'}{(1+x^2)^4} =$$

$$= \frac{-2x \cdot (1+x^2)^2 - (1-x^2) \cdot 2 \cdot (1+x^2) \cdot (1+x^2)'}{(1+x^2)^4} =$$

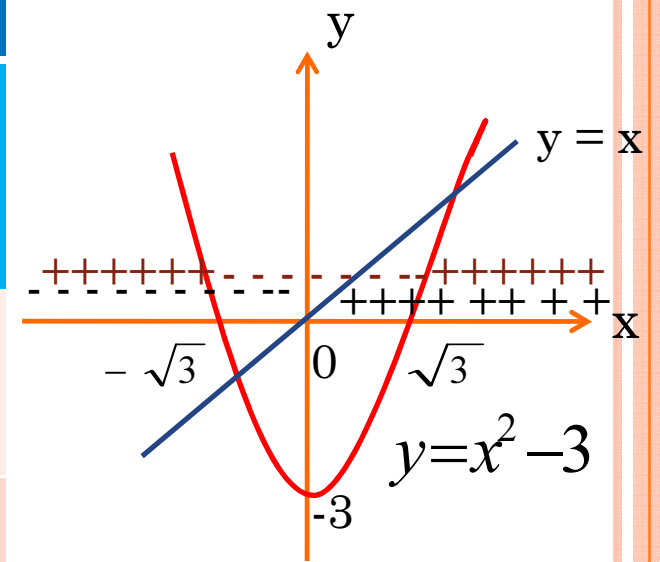
$$= \frac{-2x \cdot (1+x^2)^2 - 2 \cdot (1-x^2) \cdot (1+x^2) \cdot 2x}{(1+x^2)^4} = \frac{(1+x^2)[-2x - 2x^3 - 4x + 4x^3]}{(1+x^2)^4} =$$

$$= \frac{2x^3 - 6x}{(1+x^2)^4} = \frac{2x(x^2 - 3)}{(1+x^2)^4}$$

$$f''(x) = \frac{2x(x^2 - 3)}{(1+x^2)^4}$$



	$(-\infty, -\sqrt{3})$	$(-\sqrt{3}, 0)$	$(0, \sqrt{3})$	$(\sqrt{3}, +\infty)$
$2x$	—	—	+	+
$x^2 - 3$	+	—	—	+
$(1+x^2)^4$	+	+	+	+
$f''(x)$	—	+	—	+
$f(x)$				



$$f''(x) = \frac{2x(x^2 - 3)}{(1 + x^2)^4}$$



Potreban uslov da grafik funkcije ima prevojnu tačku je:

$$f''(x) = 0.$$

U ovom slučaju grafik ima tri prevojne tačke: \*, \*\*, \*\*\*.

$$*: f(-\sqrt{3}) = \frac{-\sqrt{3}}{1+(-\sqrt{3})^2} = \frac{-\sqrt{3}}{1+3} = -\frac{\sqrt{3}}{4} \quad P_1 \left( -\sqrt{3}, -\frac{\sqrt{3}}{4} \right)$$

$$**: f(0) = \frac{0}{1+0^2} = 0 \quad P_2 (0, 0)$$

$$***: f(\sqrt{3}) = \frac{\sqrt{3}}{1+(\sqrt{3})^2} = \frac{\sqrt{3}}{1+3} = \frac{\sqrt{3}}{4} \quad P_3 \left( \sqrt{3}, \frac{\sqrt{3}}{4} \right)$$

Za  $x \in (-\infty, -\sqrt{3}) \cup (0, \sqrt{3})$  funkcija je konkavna, a za  $x \in (-\sqrt{3}, 0) \cup (\sqrt{3}, +\infty)$  funkcija je konveksna.





## Zadaci za vježbu:

Ispitati konveksnost, konkavnost i prevojne tačke grafika sledećih funkcija:

$$a) y = x^4 + 4x^2$$

$$b) y = x^3 - x^2 + 1$$

$$c) y = x + \frac{1}{x}$$

$$d) y = \frac{2x - 1}{(1 - x)^2}$$

$$e) y = \ln x$$

